

Time: 10 Minutes

Paper Math 5

Total Marks: 10

5th Month, 4th Week, 3rd Day | Syllabus: Unit 7: Review Exercise. Q # 9, 10

Q.No.1. Draw rectangle with the help of protractor and ruler according to the given lengths and widths: (5)

سوال نمبر 1: پروٹریکٹر اور پیمانے کی مدد سے مستطیل بنائیں:

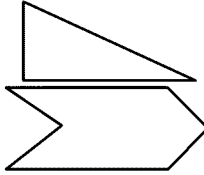
$$\ell = 5 \text{ cm,}$$

$$w = 3 \text{ cm}$$

Q.No.2. Encircle the figure which have reflective symmetry. Also draw their line of symmetry: (5)

سوال نمبر 1: اس شکل کو دائرہ لگائیں جس میں ریفلیکو سمٹری ہے۔ اُن کی لائن آف سمٹری میں بنائیں:

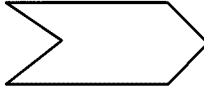
(a)



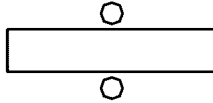
(b)



(c)



(d)



Time: 10 Minutes

Paper Math 5

Total Marks: 10

5th Month, 4th Week, 3rd Day | Syllabus: Unit 7: Review Exercise. Q # 9, 10

Q.No.1. Draw rectangle with the help of protractor and ruler according to the given lengths and widths: (5)

سوال نمبر 1: پروٹریکٹر اور پیمانے کی مدد سے مستطیل بنائیں:

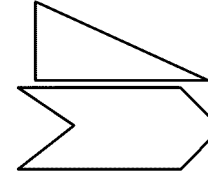
$$\ell = 5 \text{ cm,}$$

$$w = 3 \text{ cm}$$

Q.No.2. Encircle the figure which have reflective symmetry. Also draw their line of symmetry: (5)

سوال نمبر 1: اس شکل کو دائرہ لگائیں جس میں ریفلیکو سمٹری ہے۔ اُن کی لائن آف سمٹری میں بنائیں:

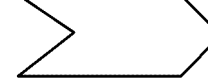
(a)



(b)



(c)



(d)

